

제 4 교시

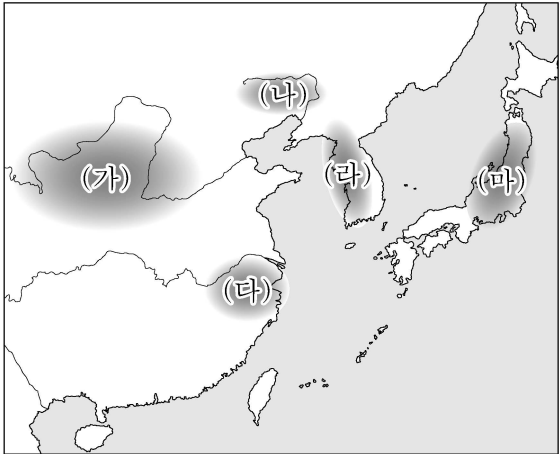
사회탐구 영역(동아시아사)

성명

수험 번호

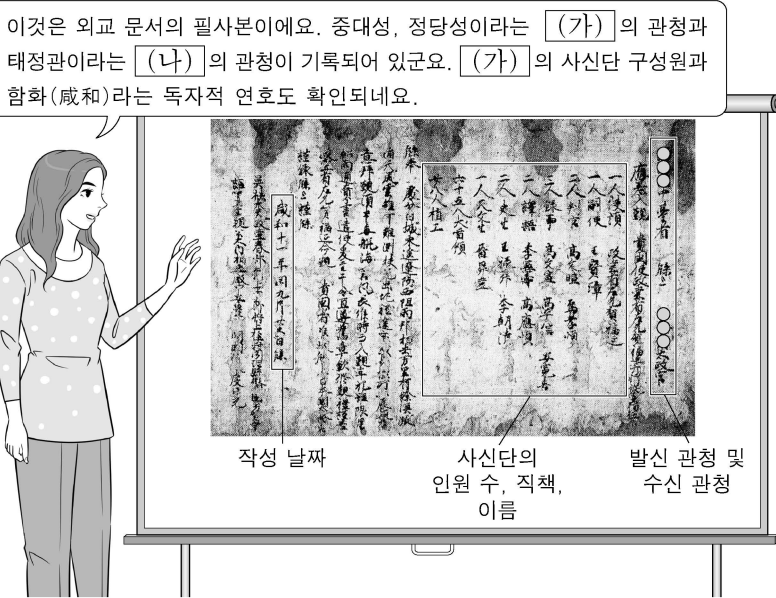
제 [    ] 선택

1. 밑줄 친 ‘이 지역’을 지도에서 옳게 고른 것은?



- ① (가)    ② (나)    ③ (다)    ④ (라)    ⑤ (마)

2. (가), (나) 국가의 통치 제도에 대한 설명으로 옳은 것만을 <보기>에서 고른 것은? [3점]



작성 날짜    사신단의 인원 수, 직책, 이름    발신 관청 및 수신 관청

<보 기>

- ㄱ. (가) - 남추밀원을 설치하였다.  
ㄴ. (가) - 유학 교육 기관으로 주자감을 설립하였다.  
ㄷ. (나) - 2관 8성의 중앙 관제를 운영하였다.  
ㄹ. (나) - 독서삼품과를 시행하여 관리 선발에 활용하였다.

- ① ㄱ, ㄴ    ② ㄱ, ㄷ    ③ ㄴ, ㄷ    ④ ㄴ, ㄹ    ⑤ ㄷ, ㄹ

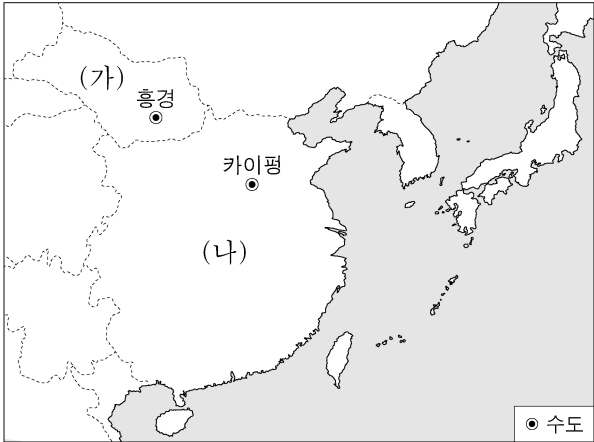
3. 다음 자료를 활용한 탐구 주제로 가장 적절한 것은?

북방 민족은 사람의 도리를 배우려 하지 않고 중원의 변경에서 빈틈을 엿보았기 때문에 옛날부터 걱정거리였다. ... (중략) ... 태시 연간에 이르러 변경을 열어 북방 민족을 불러들였더니, ... (중략) ... 하늘의 뜻이 아직 건업(建鄴)에 이르지도 못했는데 진(晉)의 수도인 뤼양이 함락되어 백성들이 도탄에 빠지고 북방 민족의 죄악이 하늘까지 가득하였다.

- 『진서(晉書)』 -

- ① 부여족의 이주와 고구려 건국  
② 위만 세력의 망명과 집권 과정  
③ 가야인의 도왜와 스에키의 제작  
④ 5호의 화북 진출과 한족의 남하  
⑤ 낙랑 유민의 이동과 백제의 성장

4. (가), (나) 국가에 대한 설명으로 옳은 것은?



- ① (가) - 발해를 멸망시켰다.  
② (가) - 대월을 공격하였다.  
③ (가) - 맹안·모극제를 실시하였다.  
④ (나) - (가)를 정복하였다.  
⑤ (나) - 거란(요)과 전연에서 형제의 맹약을 맺었다.

5. (가) 왕조에 대한 설명으로 옳은 것은? [3점]

남북조를 통일한 그는 (가)의 사신을 맞이하여 소향삼배(燒香三拜)\*하고 칙서를 수령하였다. 그는 답신 국서에서 스스로 신하임을 칭하였고, (가)(으)로 사신을 파견하였다. 사신이 지참한 국서를 받은 황제는 그를 일본 국왕에 정식으로 책봉하며 고명·관복·금인 등을 하사하였다.

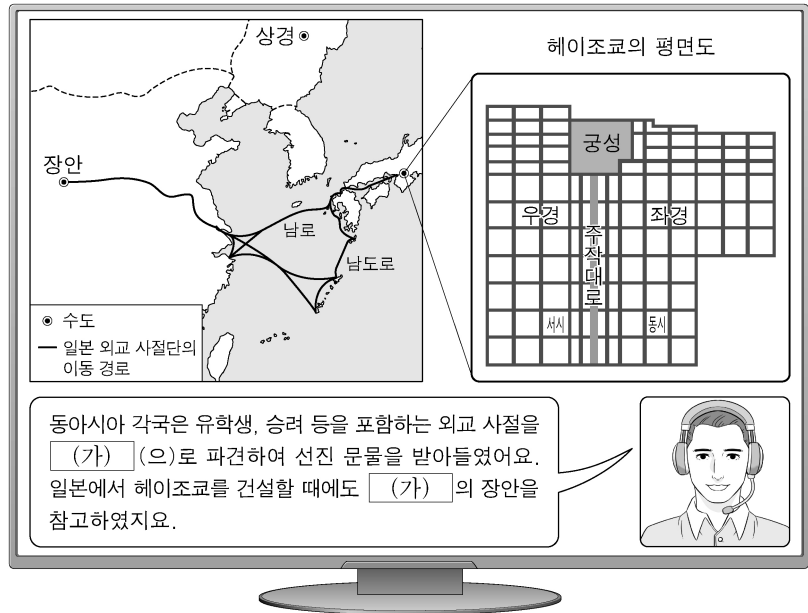
\* 소향삼배: 향을 피우고 세 번 절을 하는 의례

- ① 쓰시마를 정벌하였다.  
② 토변에 화번공주를 보냈다.  
③ 정화의 함대를 파견하였다.  
④ 매카트니 사절단을 접견하였다.  
⑤ 왜의 노국왕에게 금인을 내려 주었다.

## 2 (동아시아사)

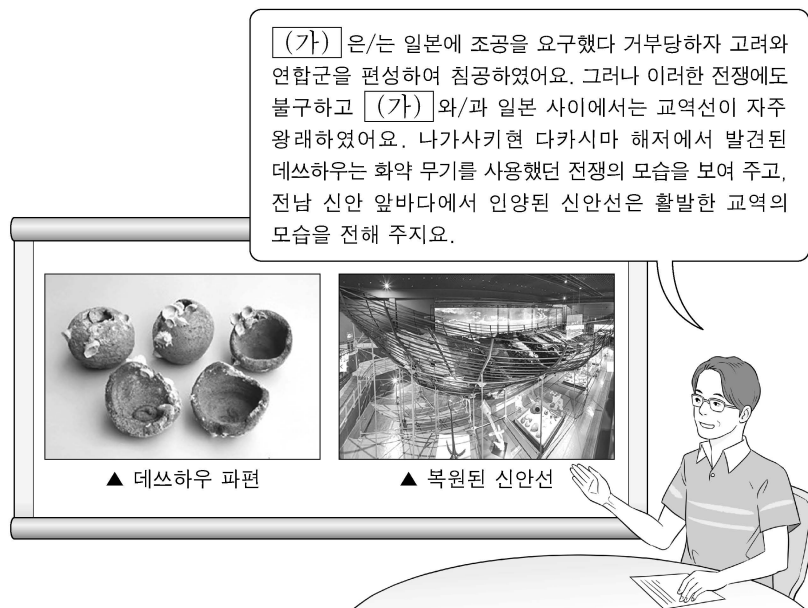
## 사회탐구 영역

6. (가) 왕조 시기에 볼 수 있는 모습으로 가장 적절한 것은?



- ① 사서집주를 편찬하는 주희
- ② 일본에 계율을 전수하는 감진
- ③ 성리학을 연구하는 후지와라 세이카
- ④ 해체신서를 간행하는 스기타 겐파쿠
- ⑤ 유클리드의 기하학 서적을 번역하는 서광계

7. (가) 국가에 대한 설명으로 옳은 것은? [3점]



- ① 광둥 무역 체제를 구축하였다.
- ② 전홍다오 군대와 전투를 벌였다.
- ③ 데지마에 네덜란드 상관을 두었다.
- ④ 난징에서 베이징으로 수도를 옮겼다.
- ⑤ 베트남 북부에 안남 도호부를 설치하였다.

8. (가) 왕조에 대한 설명으로 옳은 것은? [3점]

S#3. (가) (가)의 황제가 신하들에게 연회를 베푸는 장면

주청신: 폐하께서 6국을 멸망시켜 군현으로 삼으신 것은 과거의 어느 누구도 미칠 수 없는 위대한 업적입니다.  
 순우월: 주는 왕의 자제와 공신을 분봉하여 울타리로 삼았기 때문에 천하를 오래 보유할 수 있었으니, 지금 6국을 모두 군현으로 삼은 것은 잘못입니다.  
 이 사: 시대마다 정치가 다른데도 지금 여러 학자들이 현재를 스승으로 삼지 않고, 과거를 배워 현재를 비난하고 있습니다. 제자백가의 저서를 불태워야 합니다.  
 황 제: 이사의 말이 옳다.

- ① 고조선을 멸망시켰다.
- ② 만리장성을 축조하였다.
- ③ 3성 6부제를 운영하였다.
- ④ 다이카 개신을 단행하였다.
- ⑤ 장전을 서역에 파견하였다.

9. 밑줄 친 ‘이 병란’ 이후 동아시아에서 있었던 사실로 옳은 것만을 <보기>에서 고른 것은?

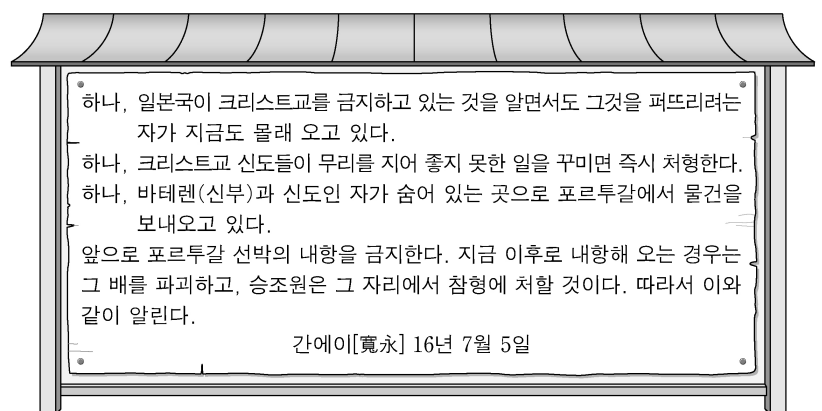
산성에 고립되어 40여 일 동안 포위되어 있다 보니, 안과 밖이 통하지 못하여 명맥이 단절되었습니다. 성안에서는 성곽을 지키는 병사가 얼어 죽고, 양식은 열흘을 지탱할 수 없었습니다. 성 밖에서는 전국 각 지역에서 보낸 구원병이 잇따라 무너졌습니다. 이 병란으로 멸망의 화가 순식간에 임박했었지만, 전하께서 모욕을 참으시고 삼전도로 나아가 몸을 굽히셔서 종묘사직을 보전하셨습니다.

<보 기>

- ㄱ. 한국 - 효종이 복벌을 추진하였다.
- ㄴ. 중국 - 오삼계 등이 삼변의 난을 일으켰다.
- ㄷ. 중국 - 홍타이지가 국호를 청으로 바꾸었다.
- ㄹ. 일본 - 오다 노부나가 나가시노 전투에서 승리하였다.

- ① ㄱ, ㄴ    ② ㄱ, ㄷ    ③ ㄴ, ㄷ    ④ ㄴ, ㄹ    ⑤ ㄷ, ㄹ

10. 다음 명령을 내린 막부 시기 동아시아에서 있었던 사실로 옳은 것은? [3점]



- ① 윤관이 여진을 정벌하였다.
- ② 장거정이 일련의 개혁을 추진하였다.
- ③ 황제가 토목보에서 몽골의 포로가 되었다.
- ④ 정씨(정성공) 세력이 타이완에서 활동하였다.
- ⑤ 도요토미 히데요시가 센고쿠 시대를 통일하였다.



11. (가) 왕조 시기의 동아시아 문화에 대한 설명으로 옳지 않은 것은?

학생 1: 선생님, 동아시아에서 국가가 주도하여 대규모 편찬 사업을 진행한 사례가 있을까요?

(가)의 건륭제 시기에 편찬된 『사고전서』가 가장 대표적이지요.

학생 2: 『사고전서』는 어떻게 구성되어 있나요?

경(經), 사(史), 자(子), 집(集)의 4부로 이루어져 있어요.

학생 3: 그럼 경, 사, 자, 집은 무슨 뜻인가요?

경은 경전, 사는 역사, 자는 사상, 집은 문학을 의미해요.

- ① 한국 - 한글 소설이 유행하였다.
- ② 중국 - 경극이 성행하였다.
- ③ 중국 - 홍루몽이 저술되었다.
- ④ 일본 - 우키요에가 제작되었다.
- ⑤ 일본 - 가나 문자가 만들어졌다.

12. (가) 물품에 대한 설명으로 옳은 것만을 <보기>에서 고른 것은? [3점]

동남아시아로 진출한 에스파냐인들은 무역 거점으로 필리핀의 마닐라를 건설하였다. 그들은 매년 포토시 등지에서 생산한 다량의 (가) 을/를 갈레온선에 실어 아카폴코에서 마닐라로 가져왔다. 마닐라에서는 중국 상인들이 가져온 비단, 도자기 등과 (가) 의 교환이 이루어졌다. 이후 아카폴코로 회항하는 갈레온선에 실린 비단, 도자기 등은 아메리카를 거쳐 에스파냐 본국으로 유입되었다.

<보 기>

- ㄱ. 송에서 일본으로 대량 수출되었다.
- ㄴ. 청에서 세금 납부 수단으로 이용되었다.
- ㄷ. 일본이 회취법을 도입하여 생산량을 증대시켰다.
- ㄹ. 조선이 초량 왜관을 통해 수출한 주요 상품이었다.

- ① ㄱ, ㄴ    ② ㄱ, ㄷ    ③ ㄴ, ㄷ    ④ ㄴ, ㄹ    ⑤ ㄷ, ㄹ

13. 밑줄 친 ‘나’에 대한 설명으로 옳은 것은?

**유촉(遺囑)**

소비에트 사회주의 공화국 연방(소련) 중앙 집행 위원회의 친애하는 동지들, 불치의 병으로 몸져 누운 지금, 나는 여러분을 생각하고, 또 우리 당과 우리 나라를 생각하고 있습니다. …(중략)… 내가 이 세상에 남기는 것은 내가 조직한 중국 국민당입니다. 나는 중국 국민당이 제국주의로부터 중국 및 그 밖의 다른 피침략국을 해방하는 역사적 과업을 완성하기 위해 소련과 협력해 왔습니다. …(중략)… 중국과 소련은 세계 피압박 민족의 자유를 위한 싸움에서 손을 잡고 함께 나아가 승리를 획득할 것입니다. 삼가 형제의 우의로써 여러분의 평안을 빕니다.

- ① 교육 척어를 공포하였다.
- ② 의화단 운동을 진압하였다.
- ③ 태평천국 운동을 주도하였다.
- ④ 제1차 국·공 합작을 추진하였다.
- ⑤ 한·중 민족 항일 대동맹을 결성하였다.

14. 밑줄 친 ‘신정부’의 정책으로 옳은 것만을 <보기>에서 고른 것은? [3점]



이것은 민건당파(民犬黨吠)라는 제목의 삽화이다. 삽화는 신정부 인사들이 커다란 개로 상징되는 민권 운동가를 단속하려 하지만 역부족인 모습을 풍자하였다. 개의 꼬리에는 “R. OF THE P.”\*라고 쓰여 있고, 뒤쪽으로는 개에게 갈채를 보내는 사람들이 묘사되어 있다. 의회 설립을 요구하는 민선 의원 설립 건백서의 제출로 민권 운동가들의 활동이 본격화되었다. 신정부는 이러한 활동을 탄압하면서도 이들의 요구를 일부 반영하여 헌법을 제정하였다.

\* R. OF THE P.: RIGHT OF THE PEOPLE(민권)

<보 기>

- ㄱ. 미·일 화친 조약을 체결하였다.
- ㄴ. 베르사유 조약 조인을 거부하였다.
- ㄷ. 운요호 사건을 빌미로 조약을 맺었다.
- ㄹ. 징병제를 실시하여 군대를 정비하였다.

- ① ㄱ, ㄴ    ② ㄱ, ㄷ    ③ ㄴ, ㄷ    ④ ㄴ, ㄹ    ⑤ ㄷ, ㄹ

15. (가), (나) 성명이 발표된 시기 사이에 있었던 사실로 옳은 것은? [3점]

- (가) 중화 인민 공화국 정부와 일본국 정부는 금일부터 외교 관계를 수립하기로 결정하였다. …(중략)… 중화 인민 공화국 정부는 중·일 양국 국민의 우호를 위하여 일본국에 대한 전쟁 배상의 청구를 포기하기로 선포한다.
- (나) 대한민국 정부와 중화 인민 공화국 정부는 양국 국민의 이익과 염원에 부응하여 금일자로 상호 승인하고 대사급 외교 관계를 수립하기로 결정하였다. …(중략)… 양국 간의 수교가 한반도 정세의 완화와 안정, 그리고 아시아의 평화와 안정에 기여할 것이라고 확신한다.

- ① 6·25 전쟁이 발발하였다.
- ② 닉슨 독트린이 발표되었다.
- ③ 파리 평화 협정이 체결되었다.
- ④ 한·일 기본 조약이 맺어졌다.
- ⑤ 천수이볜이 총통으로 선출되었다.

16. 밑줄 친 ‘이 전쟁’ 시기에 볼 수 있는 모습으로 가장 적절한 것은? [3점]

○○일보 ○○○○년 △△월 □□일

한·중 두 민족이 통일 전선을 건립하자!

작년 12월 어느 날, ‘중국의 친구를 방문하다!—조선 의용대’라는 표제를 단 보도를 통해, 구이린에서 활동하고 있는 조선 의용대가 처음으로 일반 대중에게 소개되었다. 조선 의용대는 루거우차오 사건을 계기로 시작된 이 전쟁에 참가하여, 최후 승리를 쟁취하는 길만이 한국 독립을 쟁취할 수 있는 유일한 길임을 잘 알기 때문에 온갖 어려움 속에서도 활발한 공작 활동을 진행하고 있다. …(중략)… 조선 의용대가 ‘한·중 두 민족이 통일 전선을 건립하자!’라는 표어로 선전 공작을 진행한 뒤, 이 표어는 중국 동포들 사이에 출현한 외침이자 주장이 되었다.

- ① 5·4 운동에 참여하는 대학생
- ② 만주에 파견되는 리튼 조사단원
- ③ 의회에서 연설하는 자민당 소속 일본 총리
- ④ 풍도 해전의 발발 소식을 전하는 신문 기자
- ⑤ 난징에서 충칭으로 수도를 옮기는 국민당 정부 관리

17. (가) 사건에 대한 탐구 활동으로 가장 적절한 것은?

대약진 운동이 실패하고 자본주의 사상과 문화에 대한 투쟁이 가속화되었다. …(중략)… 마오쩌둥은 당시의 계급 정세 및 당과 국가의 정치 상황을 완전히 잘못 판단하고 (가) 을/를 전개하였다. 이로 인해 발생한 10년 동안의 내란은 당, 국가, 인민이 심각한 좌절을 겪고 손해를 보게 된 쓰라린 교훈을 남겼다. 중앙 정치국은 당과 인민의 의지에 따라 4인방을 단호히 처단하고 (가) 을/를 종결하였다.

- ① 홍위병의 활동을 조사한다.
- ② 양무운동의 배경을 파악한다.
- ③ 6월 민주 항쟁의 결과를 알아본다.
- ④ 55년 체제의 성립 과정을 분석한다.
- ⑤ 베트남 공화국 수립의 계기를 찾아본다.

18. 밑줄 친 ㉠, ㉡에 대한 설명으로 옳은 것은?

역사 속의 5월 3일

일본의 전후 처리

- 19△△년 이날은 일본의 주요 전쟁 범죄자를 처벌하기 위한 재판이 처음 열린 날이다. 약 2년 반 동안 진행된 ㉠이 재판에서 A급 전범 25명만이 실형을 선고받았다.
- 19□□년 이날은 6개월 전에 제정된 헌법이 시행된 날이다. 제1조에서 천황을 상징적인 존재로 규정한 ㉡이 헌법을 소개하기 위해 문부성에서는 책을 발행하였다.

- ① ㉠ - 미드웨이 해전이 발발하는 배경이 되었다.
- ② ㉠ - 워싱턴 체제가 성립되는 결과를 가져왔다.
- ③ ㉡ - 포츠담 선언의 발표에 영향을 주었다.
- ④ ㉡ - 일본 제국 의회가 설립되는 토대가 되었다.
- ⑤ ㉡ - 군사력 보유 금지에 대한 내용을 담고 있다.

19. (가) 도시에 대한 설명으로 옳은 것은?



사진은 인도에서 건너온 붉은 터번을 두른 시크교도 순포의 모습이다. 영국과의 조약에 따라 홍콩이 할양되고 개방된 5개 항구 중 가장 북쪽에 위치한 (가) 의 조계에서 이들이 활동하였다. 이들은 황푸강에 인접한 와이탄을 중심으로 한 (가) 의 조계에서 주로 치안을 유지하는 업무를 담당하였고, 서양인들이 직접 나서기 곤란한 일을 수행하였다.

- ① 금릉 기기국이 설립된 곳이다.
- ② 아주 화친회가 결성된 곳이다.
- ③ 대한민국 임시 정부가 수립된 곳이다.
- ④ 청·일 전쟁의 강화 조약이 체결된 곳이다.
- ⑤ 유럽과의 무역을 담당하는 공행이 설치된 곳이다.

20. (가), (나) 국가에 대한 설명으로 옳은 것만을 <보기>에서 고른 것은? [3점]

조약으로 보는 동아시아 각국의 개항

자료 1

제3조 시모다, 하코다테 외에 다음 항구를 개항한다. 가나가와, 나가사키, 니가타, 효고.

제6조 일본인에 대하여 범법 행위를 한 (가) 인은 그들의 영사 재판소에서 조사한 후 (가) 의 법으로 벌한다.

자료 2

제2조 프랑스인 등은 (나) 내에서 크리스티교를 믿을 수 있으며, (나) 인들도 크리스티교를 믿기 원하면 아무런 제약 없이 믿을 수 있다.

제5조 다낭, 바랏, 광옌의 세 항구를 개항하여 프랑스인 등이 자유롭게 상업 활동을 할 수 있게 한다.

<보 기>

- ㄱ. (가) - 애치슨 라인을 발표하였다.
- ㄴ. (가) - 청으로부터 타이완을 넘겨받았다.
- ㄷ. (나) - 영토의 일부를 할양하였다.
- ㄹ. (나) - 산둥 지역에서 누리던 이권을 일본에 빼앗겼다.

- ① ㄱ, ㄴ    ② ㄱ, ㄷ    ③ ㄴ, ㄷ    ④ ㄴ, ㄹ    ⑤ ㄷ, ㄹ

\* 확인 사항

- 답안지의 해당란에 필요한 내용을 정확히 기입(표기)했는지 확인 하시오.